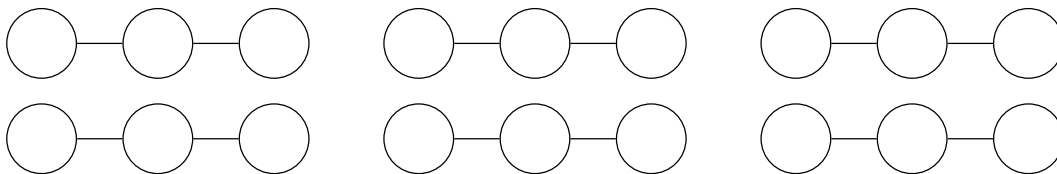
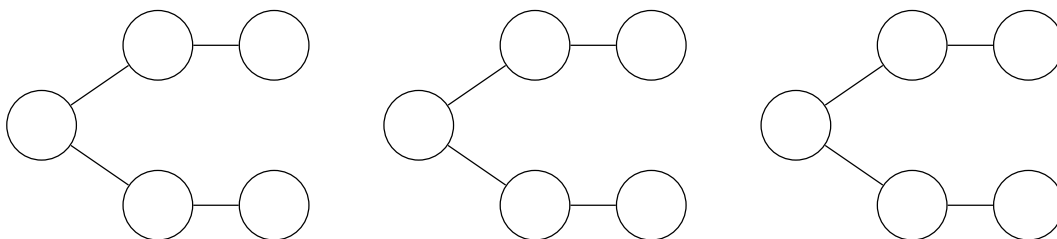


Aさん、Bさん、Cさんの3人でリレーのチームをつくります。

- 3人の走る順番をすべて書きましょう。



- 樹形図を書いて考えましょう。

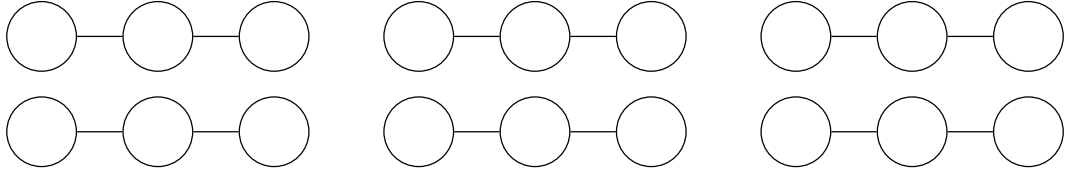


- 全部で何とおりありますか。

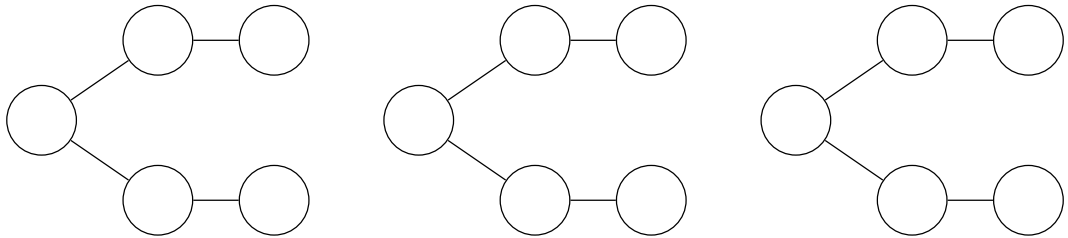
(       ) 通り

たけしくん、けんじくん、さとしくんの3人でリレーのチームをつくります。

- 3人の走る順番をすべて書きましょう。



- 樹形図を書いて考えましょう。

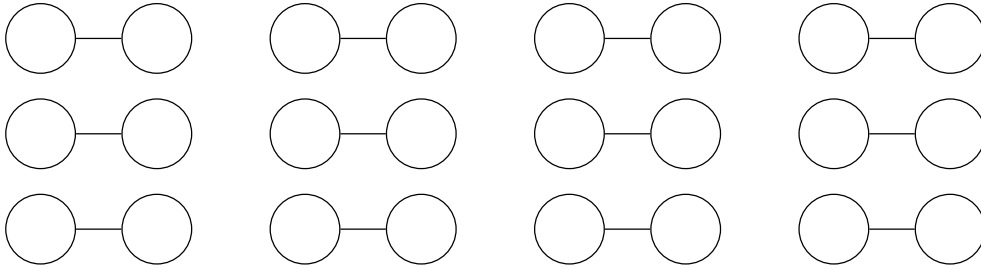


- 全部で何とおりありますか。

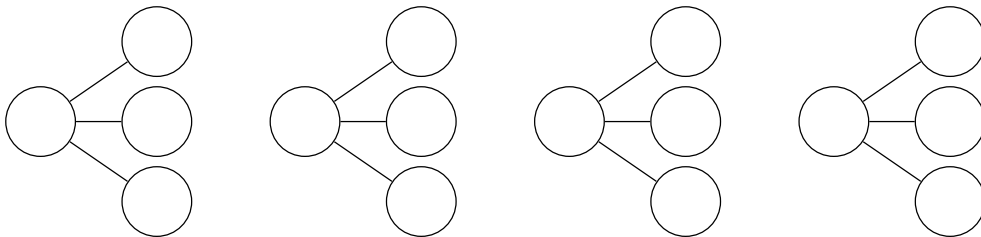
(       ) 通り

A、B、C、Dの4人から2人を選んで並べます。

- 並べ方は何とおりあるか考えましょう。



- 樹形図を使って考えましょう。



- 全部で何とおりありますか。

( ) 通り

A さん、B さん、C さん、D さんの並び方を樹形図を使って表しましょう。

