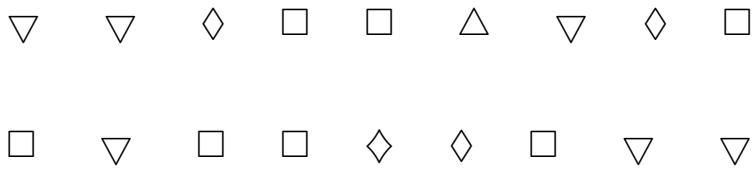



ひょうとグラフ




- きごうのしゅるいをしらべてひょうにあらわしましょう。

きごう	▽	△	□	◇
数				

- ○をつかって、下のグラフにあらわしましょう。




ひょうとグラフ




- きごうのしゅるいをしらべてひょうにあらわしましょう。

きごう	▼	▲	■	◆
数				

- ○をつかって、下のグラフにあらわしましょう。




ひょうとグラフ



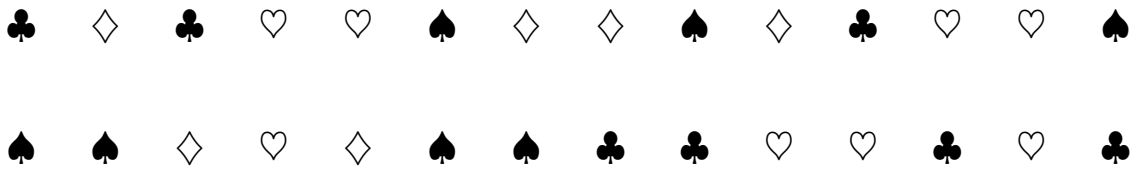
- きごうのしゅるいをしらべてひょうにあらわしましょう。

きごう	♠	♣	♥	◇
数				

- ○をつかって、下のグラフにあらわしましょう。



ひょうとグラフ



- きごうのしゅるいをしらべてひょうにあらわしましょう。

きごう	♠	♣	♥	◇
数				

- ○をつかって、下のグラフにあらわしましょう。

